



Grade 2

مدرسة الأندلس الابتدائية
الخاصة - للبنين
تحت إشراف وزارة التربية والتعليم والتعليم العالي
التدريبات الإثرائية (الوحدة الثامنة)




2023 - 2022

رؤيتنا: تعلم عصري ملهم بهوية وطنية وقيم إسلامية

تعليمات اختر الإجابة الصحيحة لكل من الأسئلة من 1 إلى 3 .

السؤال رقم (1)


ما عدد المئات في الشكل التالي ؟



- ☐ A 6
☐ B 8
☐ C 10

السؤال رقم (2)


ما عدد المئات في الشكل التالي ؟



- ☐ A 7
☐ B 8
☐ C 9

السؤال رقم (3)

ما عدد المئات في الشكل التالي



- ☐ A 7
☐ B 8
☐ C 9

السؤال رقم (4)

A . باستعمال النموذج وجدول القيمة المنزلية . اكتب العدد .




الإجابة

.....

B . اكتب العدد بالصيغة القياسية .


$$600 + 90 + 5$$



.....

السؤال رقم (5)

A . باستعمال النموذج وجدول القيمة المنزلية . اكتب العدد .




الإجابة

.....

B . اكتب العدد بالصيغة القياسية .


$$300 + 80 + 2$$



.....

السؤال رقم (6)

A . باستعمال النموذج وجدول القيمة المنزلية . اكتب العدد .




الإجابة

.....

B . اكتب العدد بالصيغة القياسية .

$$300 + 10 + 5$$



.....

السؤال رقم (7)

A . اكتب قيمة كل رقم باستعمال العدد الذي في جدول القيمة المنزلية .

مئات	عشرات	آحاد
3	5	4

قيمة الرقم 3 هي

قيمة الرقم 5 هي

قيمة الرقم 4 هي

B . انظر إلى نمط العد القفزي . اكتب الأعداد الناقصة .

100 , 200 , 300 , ,

السؤال رقم (8)

A . اكتب قيمة كل رقم باستعمال العدد الذي في جدول القيمة المنزلية .

آحاد	عشرات	مئات
1	6	8

قيمة الرقم 8 هي

قيمة الرقم 6 هي

قيمة الرقم 1 هي

B . انظر إلى نمط العد القفزي . اكتب الأعداد الناقصة .

200 , 300 , 400 , ,

السؤال رقم (9)

A . اكتب قيمة كل رقم باستعمال العدد الذي في جدول القيمة المنزلية .

آحاد	عشرات	مئات
3	4	2

قيمة الرقم 2 هي

قيمة الرقم 4 هي

قيمة الرقم 3 هي

B . انظر إلى نمط العد القفزي . اكتب الأعداد الناقصة .

100 , 200 , 300 , 400 , 500 , ,